


Nombre _____

Fecha _____

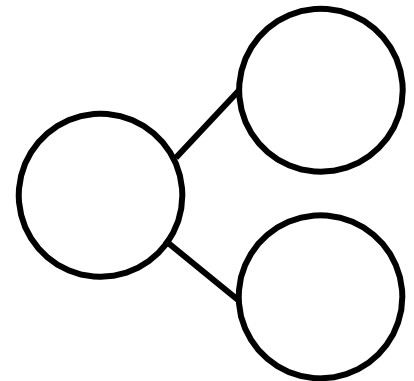
Completa un enlace y una oración numérica para cada problema.

Colorea 6 cubos en azul. Colorea los demás cubos en rojo. Todos los cubos azules se cayeron de la mesa. ¿Cuántos cubos hay en la mesa todavía?



_____ - _____ = _____

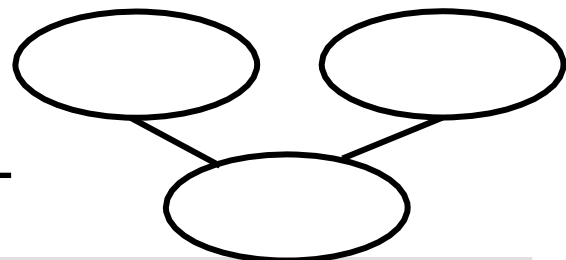
Colorea algunos cubos en anaranjado y los demás en amarillo para completar 10. Todos los cubos amarillos se cayeron de la mesa. ¿Cuántos cubos quedaron?



_____ - _____ = _____

Dibuja 5 perros y algunos gatos en la forma de grupos de 5.

_____ + _____ = _____





Lesson 41:

Culminating task—choose tools strategically to model and represent a stick of 10 cubes broken into two parts.

Date:

11/12/13

engage^{ny}4.H.44