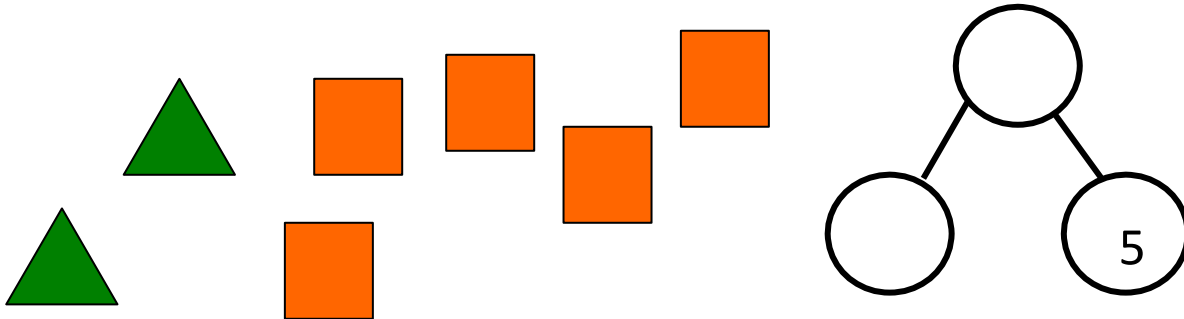


Nombre _____

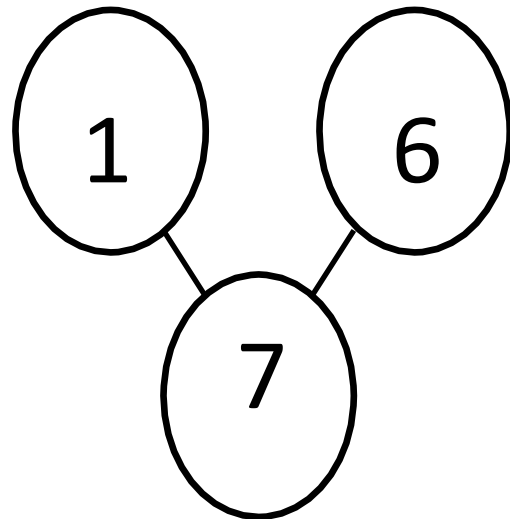
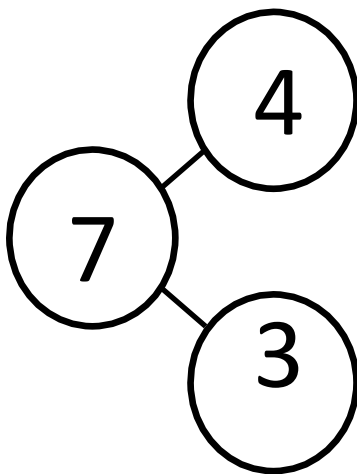
Fecha _____

Cuenta un cuento sobre las formas. Completa el enlace numérico.

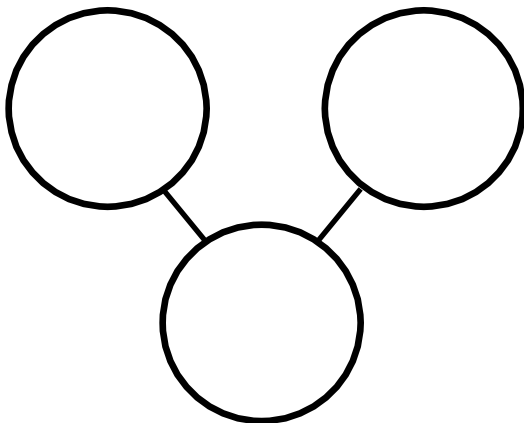
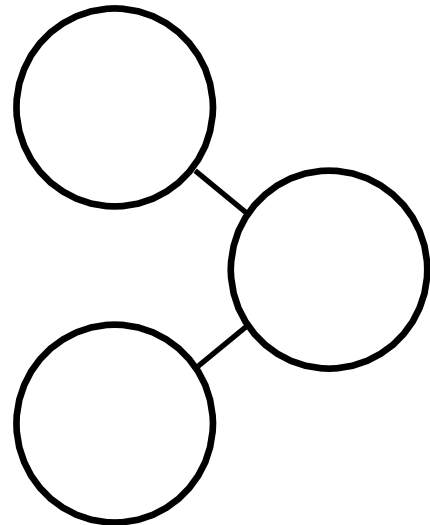

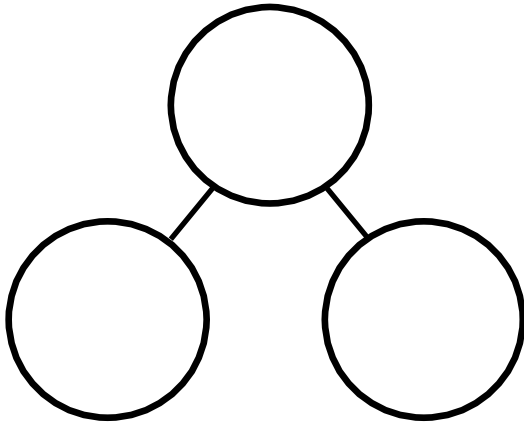


triángulos cuadrados son formas

Colorea la barra de cubos para que se iguale al enlace numérico.



En cada barra colorea algunos cubos en anaranjado y otros en morado.
 Completa el enlace numérico para que se igualen. Cuenta a un amigo un cuento sobre uno de tus enlaces numéricos.



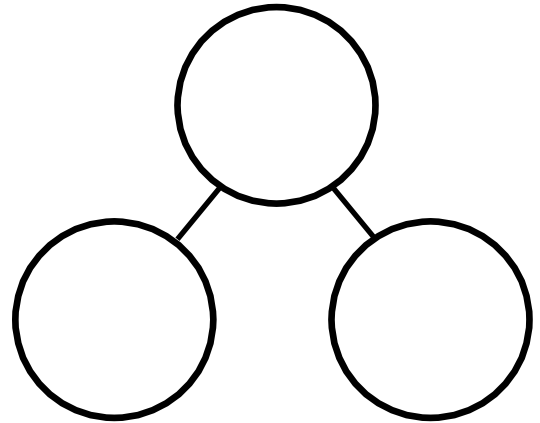

Dibuja una barra de 7. Usa 2 colores para crear el 7. Haz y completa el enlace numérico.

Nombre _____

Fecha _____

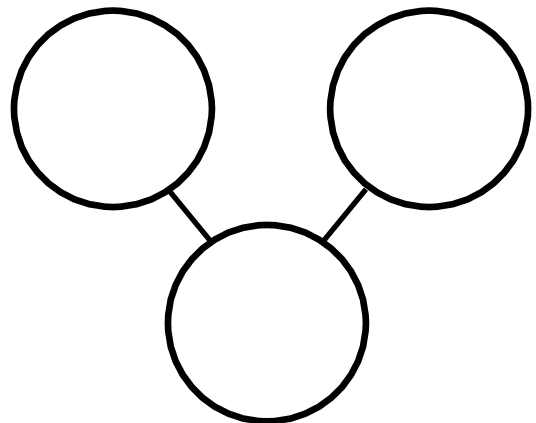
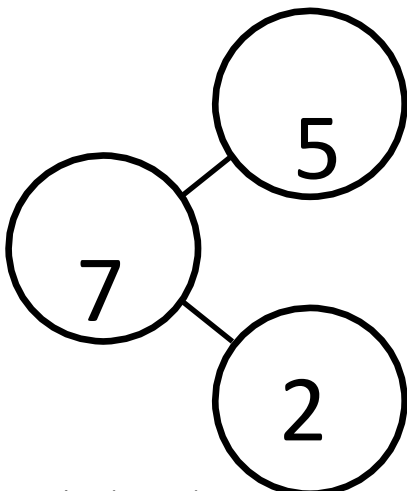
Dibuja un conjunto de 4 círculos y 3 triángulos. ¿Cuántas formas tienes?

Completa la oración y el enlace numérico.



Colorea los cubos para que se igualen al enlace numérico.

Colorea algunos cubos en rojo y otros en azul. Completa el enlace numérico para que se igualen.



Detrás de tu hoja dibuja un conjunto de 7 cuadrados y círculos. Haz y completa un enlace numérico. Ahora escribe una oración numérica que describa tu conjunto.

